



Our Vision:Innovative education for a knowledge, pioneering, and global society.

ورقة عمل لمادة الدراسات الاجتماعية / الفصل الثاني
الصف الخامس
الدرس : دول مجلس التعاون " طبيعيا "

السؤال الأول :-

عرّف كلا مما يلي :

- 1- الموقع الفلكي.....
- 2- الموقع النسبي.....
- 3- الموقع المكاني.....

أمامك خريطة لدول مجلس التعاون ادرسها جيدا ثم أجب



1- حدد مدار السرطان على الخريطة؟

2- اكتب اسماء دول مجلس التعاون ؟

- 3- اصغر الدول مساحة؟
- 4- اكبر الدول مساحة ؟



Our Vision:Innovative education for a knowledge, pioneering, and global society.

((ب)) اكمل الجدول التالي الذي يوضح أهمية موقع دول مجلس التعاون

	الاهمية الدينية
	الأهمية الإستراتيجية
	الأهمية الإقتصادية
	الأهمية الحضارية

السؤال الثاني:-

عرف كلا مما يلي :

- 1- الجبال الإلتوائية :
- 2- الجبال الإنكسارية :
- 3- التضاريس :
- 4 - الهضبة
- 5- السهول
- 6 - السهول الفيضية
- 7- الاودية الجافة






Our Vision:Innovative education for a knowledge, pioneering, and global society.

السؤال الثالث :

أكمل المخطط التالي :

تقسم التضاريس في دول مجلس التعاون إلي :



أكمل الشكل التالي :

جبال البحر الأحمر

- توجد غرب السعودية موازية للبحر
- أقسامها و.....
- أهم الأودية

جبال عمان

- الموقع (جنوب شرق)
- اعلى قممها هي
- أهم الأودية





Our Vision:Innovative education for a knowledge, pioneering, and global society.

السؤال الرابع :

• أصنّف الظواهر الجغرافية التي بين القوسين وفقاً لما يُناسِبُها في الجدول التالي:

• ليوا • نجد • الدّواسر • الباطنة • عسير

سَهولٌ	أوديةٌ	هضابٌ	واحاتٌ	جبالٌ

تقع دول مجلس التعاون
في المنطقة الحارة ضمن
الإقليم الصحراوي

السؤال الخامس :-

أولا عرف كلا مما يلي:

- 1- المناخ
- 2- الطقس

أكمل المخطط التالي :

عناصر المناخ المؤثرة في دول مجلس التعاون



الحرارة



Our Vision:Innovative education for a knowledge, pioneering, and global society.

السؤال السادس:

1- عرف النبات الطبيعي :

2- اكتب أهم أنواع النباتات الطبيعية مع ذكر مثال ؟

.....

.....

.....

3- ما أهمية نبات المانجروف : ص 20

.....

.....